




KIỂM TRA NĂNG LỰC DẠNG GMAT

1. Kinh tế Việt Nam có mức tăng trưởng GDP danh nghĩa trung bình khoảng 7,2%/năm từ khi thực thi chính sách Đổi mới. Hỏi sau khoảng bao nhiêu năm giá trị GDP danh nghĩa tăng gấp 2 lần ?
a. 12 năm b. 8 năm c. 14 năm d. 10 năm
2. Trụ sở chính của Nghị viện Châu Âu được đặt tại?
a. Strasbourg (Pháp) b. London (Anh) c. Berlin (Đức) d. Brussels (Bỉ)
3. Nguồn lực sản xuất là tất cả những vấn đề bên dưới, trừ:
a. Tiền mà chúng ta dùng để mua đồ xa xỉ
b. Đất đai, tinh thần doanh nhân và vốn nhân lực
c. Đất đai, kỹ năng của lao động và máy móc của doanh nghiệp
d. Kỹ năng kinh doanh, đất đai và vốn của doanh nghiệp
4. Một tờ tạp chí giảm giá 30%. Hỏi phải tăng lại bao nhiêu % để có giá như cũ?
a. 40,01% b. 30,05% c. 45,10% d. 42,86%
5. Nguồn gốc của ngày 1-5 (ngày 1 tháng 5) bắt nguồn từ
a. Mỹ b. Úc c. Anh d. Pháp
6. Trong bài kiểm tra năng lực tư duy của bạn có một số câu hỏi. Bạn trả lời sai 10 câu hỏi. Kết quả thang điểm của bạn chỉ đạt 60%. Vậy bài kiểm tra năng lực tư duy của bạn có tất cả bao nhiêu câu?
a. 20 b. 25 c. 30 d. 35
7. Một cái sàn lều vòm nguyệt có hình lục giác đều có cạnh là 2 m được sơn bởi 6 màu tuy khác nhau nhưng gần giống nhau. Biết rằng để sơn 1m² cần 3 kg sơn. Hỏi cần bao nhiêu kg sơn mỗi màu?
a. $3\sqrt{3}$ kg b. 6 kg c. $3\sqrt{2}$ kg d. 4 kg
8. Nếu $X = m - 1$, công thức nào sau đây đúng với $m = 1/2$?
a. $X^0 > X^2 > X^3 > X^1$
b. $X^0 > X^2 > X^1 > X^3$
c. $X^0 > X^1 > X^2 > X^3$
d. $X^3 > X^2 > X^1 > X^0$
- 9: Giải Wimbledon diễn ra tại quốc gia nào?
a. Anh Quốc b. Hoa Kỳ c. Pháp d. Úc
10. Nếu chu vi của một mảnh đất hình chữ nhật là 34m và diện tích của nó là 60m². Hỏi chiều dài của mảnh đất chữ nhật là bao nhiêu?
a. 5m b. 6m c. 10m d. 12m
11. Nếu $5y - 3x = 7$ và $6y + 6x = 2$ thì giá trị của y là
a. 3 b. 1 c. 2 d. 4
12. Điền hình còn thiếu vào chỗ trống



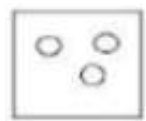
a.



b.



c.



d.

13. Công ty A sở hữu 40% cổ phiếu của công ty XYZ. Công ty B sở hữu 15000 cổ phiếu XYZ. Công ty C sở hữu phần cổ phiếu còn lại của công ty XYZ. Hỏi công ty A sở hữu bao nhiêu công phiếu biết rằng công ty C sở hữu nhiều hơn công ty A 25%?

- a. 45000
- b. 50000
- c. 60000
- d. 75000

14. Liệu x^3 có bằng 125?

- (1) $x > 4$
- (2) $x < 6$

- a. Một mình nhận định (1) là đủ, nhưng một mình nhận định (2) là không đủ.
- b. Một mình nhận định (2) là đủ, nhưng một mình nhận định (1) là không đủ.
- c. Bất cứ 1 trong 2 nhận định là đủ
- d. Cả 2 nhận định mới đủ
- e. Cả 2 nhận định vẫn không đủ

15. Điền vào chỗ trống “quản trị cấp thấp thì kỹ năngcàng quan trọng”

- a. Giao tiếp
- b. Nhân sự
- c. Chuyên môn
- d. Tư duy

16. Tỉnh nào sau đây không giáp biển

- a. Tiền Giang
- b. Nghệ an
- c. Phú yên
- d. Hậu Giang

17. T cao hơn N, B thấp hơn T. Câu nào đúng nhất:


- a. B thấp hơn N
- b. B cao hơn N
- c. B cao bằng N
- d. Không nói được B hay N cao hơn

18. Trong một công ty, tuổi bình quân của những người quản lý là 54, trong khi đó tuổi bình quân của nhân viên không quản lý là 34. Hỏi tuổi trung bình chung của toàn bộ nhân viên trong công ty là bao nhiêu?

- (1) Có 10 người làm quản lý.
- (2) Số nhân viên không làm quản lý nhiều gấp 4 lần số nhân viên làm quản lý.

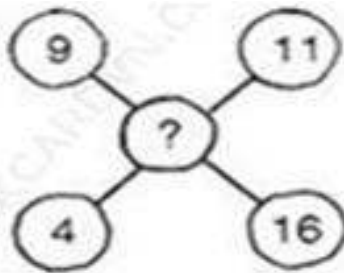
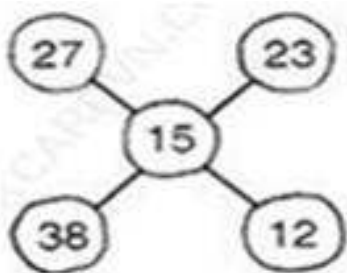
- a. Một mình nhận định (1) là đủ, nhưng một mình nhận định (2) là không đủ.
- b. Một mình nhận định (2) là đủ, nhưng một mình nhận định (1) là không đủ.
- c. Bất cứ 1 trong 2 nhận định là đủ
- d. Cả 2 nhận định mới đủ, còn bất cứ nhận định nào một mình là không đủ.
- e. cả 2 nhận định vẫn không đủ

19. Hình nào thích hợp để thay vị trí dấu hỏi (?)



- a.
- b.
- c.
- d.

20. Điền số thích hợp vào những ô còn trống



- a. 5
- b. 6
- c. 7
- d. 8

21. Trong các bất đẳng thức sau, bất đẳng thức nào thỏa mãn bất đẳng thức $10 - 2x > 18$?

- a. $x > 4$
- b. $x > -14$
- c. $x > -4$
- d. $x < -4$

22. Ký tự tiếp theo trong dãy sau đây là ký tự nào: A...C...F...J...O...?

(Dãy chữ tiếng Anh: A B C D E F G H I J K L M N O P Q R S T U V W X Y Z)

- a. S
- b. V
- c. U
- d. T

23. Năm ngoái Giang tiết kiệm được 10% thu nhập năm. Năm nay Giang có thu nhập tăng 5% so với năm ngoái và tiết kiệm được 12% thu nhập năm. Hỏi số tiền mà Giang tiết kiệm được năm nay bằng bao nhiêu phần trăm số tiền anh ta tiết kiệm được vào năm ngoái?

- a. 128%
- b. 126%
- c. 130%
- d. 124%

24. Nếu chiều dài và chiều rộng của một khu vườn hình chữ nhật tăng lên 20%, thì diện tích khu vườn sẽ tăng lên bao nhiêu %?

- a. 20%
- b. 40%
- c. 44%
- d. 30%

25. Pizza Hut đang có chương trình khuyến mãi với 5 hộp pizza rỗng bạn có thể đổi được 1 bánh pizza miễn phí. Ngọc có 25 hộp pizza rỗng, vậy cô ấy có thể đổi được nhiều nhất bao nhiêu bánh pizza miễn phí

- a. 5
- b. 6
- c. 15
- d. 10